

新北市立中正國民中學113學年度第二學期八年級社會科第三次段考試題

範圍：公民 B4L5~6、歷史 B4L5~6、地理 B4L5~6 班級：_____ 座號：____ 姓名：_____

【讀卡科目請依規定畫卡，若有違反畫卡規定而影響讀卡作業之情事，一律扣總分 5 分。】

一、 選擇題

1. 阿強將公民課上所學的法律責任與焦點新聞配對，整理成附表。請問：表格中第一則至第三則新聞的法律責任類型依序為何？(P. 190)

第一則	情侶起口角，男友憤而打傷女友。
第二則	兩名年輕人共騎機車未戴安全帽。
第三則	某旅行社未依契約完成旅遊行程，導致旅客無法如期歸國。

- (A) 刑事、行政、民事
(B) 民事、刑事、行政
(C) 刑事、民事、民事
(D) 行政、刑事、民事。
2. 關於行政處分的敘述，下列何者正確？(P. 188)
(A) 行政處分是由立法機關對特定人民直接發生法律效果的行為
(B) 行政處分的內容對人民有利也有不利
(C) 行政處分不包含核發建築執照、學校頒發畢業證書、警察開罰單
(D) 罰金、罰鍰都是行政處分的範圍。
3. 關於「行政訴訟」的敘述，下列何者正確？(P.190)
(A) 人民須向司法機關提出「訴願」，請求救濟
(B) 對行政訴訟結果不服，才可以提出訴願
(C) 可對立法機關或法院提出救濟
(D) 這是針對行政機關的行政行為違法或不當，而使自己的權利或法律上的利益遭受損害時所提出的救濟。
4. 衛福部公告「包裝速食麵標示相關規定」，有關包裝泡麵的標示，如內容物附調味粉包，但並無食材包者，應以「○○味麵、○○風味麵或○○湯麵」為品名。上述政府制定規範來保障人民權益的作法，符合下列何種概念？(P. 188)
(A) 行政罰
(B) 行政處分
(C) 行政責任
(D) 行政管制。

5. 附表是小明的公民作業中對於少年刑事案件與少年保護事件的比較表，表中何項正確？(P.200,201)

項目	少年刑事案件	少年保護事件
(甲) 犯罪情節	較輕	較重
(乙) 審理或起訴	由少年法院(庭)	由檢察官
(丙) 接受處分	刑罰	保護處分
(丁) 犯罪行為	如偷竊	如殺人

- (A) 甲
(B) 乙
(C) 丙
(D) 丁。

6. 行政法並非是一部獨立的法典，而是指所有關於國家行政機關行使職權與運作的法規總稱。附圖中九宮格的法律，屬於行政法規的有幾部？(P. 186,187)

《行政程序法》	《憲法》	《國民教育法》
《廢棄物清理法》	《道路交通管理處罰條例》	《社會秩序維護法》
《民法》	《戶籍法》	《刑法》


- (A) 4 部
(B) 5 部
(C) 6 部
(D) 7 部。


7. 志玲上課報告時舉了以下兩個例子，根據其內容判斷，下列何者最可能是該報告的主題？(P.187)


- 消防機關針對娛樂場所依法辦理消防設備安全檢查。
- 警察於連假依法執行臨檢、盤查等勤務。


- (A) 行政法是《憲法》的具體化
(B) 行政法並非一部獨立的法典
(C) 行政法專指交通法規
(D) 行政機關應依法行政。

8. 這次讀書會的主題是《兒童及少年性剝削防制條例》的相關規定，下列哪一位組員的說明最正確？(P. 197)

(A)  制定目的在於確保兒童及少年從事性交易時，能得到合理的對待。

(B)  若散布、播送、販賣有關兒少的猥褻影像，將受到行政處分。

(C)  從事性交易的兒童及少年，將視其情況給予安置與保護教養。

(D)  若已徵求兒童及少年同意進行性交易，則法律不罰。

9. 為了保障兒少的權益與福利，政府制定《兒童及少年福利與權益保障法》。下列敘述何者與本法無關？(P.196)

- (A) 所有兒少的權益，都應受到政府同等的重視與保障
(B) 設立兒少勞動條件最低標準，促進社會與經濟發展
(C) 規定兒少不得抽菸或喝酒、不得出入危害其身心健康場所的保護措施
(D) 提供兒少醫療照顧或輔導職業訓練與就業的福利措施。

後面尚有試題，請繼續作答

新北市立中正國民中學113學年度第二學期八年級社會科第三次段考試題

範圍：公民 B4L5~6、歷史 B4L5~6、地理 B4L5~6 班級：_____ 座號：____ 姓名：_____

10. 在民主法治國家中，人民有守法的義務。若違反規定，必須負起相關的責任。附圖中的處罰種類，屬於行政罰的有幾項？(P.189)

罰鍰	停止營業	公布姓名
罰金	褫奪公權	強制拆除
有期徒刑	拘役	死刑

- (A) 2 項
(B) 3 項
(C) 4 項
(D) 5 項。
11. 政府的行政行為受到行政法和行政程序的制約，對於保障人民基本權利和維護公共利益而言極為重要。下列舉例中，何者的說法正確？(P.186)
- (A) 教育部依《國民教育法》，強制國民接受大學教育，以保障人民受教權
(B) 戶政事務所依《戶籍法》規定新生兒從父姓，以保障性別平權
(C) 衛生福利部依《全民健保法》，強制全民接受健康檢查，以保障國民健康
(D) 北市政府依《噪音管制法》將夜間便利商店門鈴聲列入管制範圍，以免影響民眾睡眠。
12. 2019 年立法院修正《少年事件處理法》，以「曝險少年」取代過往的「虞犯少年」，希望藉輔導安置幫助少年脫離有高度犯罪風險的不利環境，而非將其當作是未來的潛在罪犯來管理，去除少年虞犯身分標籤。下列何者不是辨識所謂「曝險少年」的行為徵兆？(P.200)
- (A) 經常出入夜店、酒店等場所
(B) 經常攜帶刀械在背包中
(C) 計畫要偷金飾店的項鍊，買好工具準備偷竊
(D) 和同學唱歌時吸食 K 他命助興。
13. 《勞動基準法》可以保障兒少的工作權益，請根據以下內容判斷，若雇主違反該法可能要承擔下列何種責任？(P.190,198)

- ◎依《勞動基準法》規定，童工係指 15 歲以上未滿 16 歲的兒童或少年，雇主若違法僱用，將處新臺幣 2 萬元到 30 萬元罰鍰。
◎依《勞動基準法》規定，童工不能在午後 8 時至翌晨 6 時之時間內工作，若雇主指派童工夜間工作，可處 6 個月以下有期徒刑。

- (A) 道義責任、民事責任
(B) 行政責任、刑事責任
(C) 民事責任、刑事責任
(D) 民事責任、行政責任。

※14 至 16 題為題組，閱讀下列圖文後回答問題：

阿甘和父親相依為命，但由於父子間關係不好，因此一旦阿甘需要錢，就用偷竊解決，這使得他反覆進出少年觀護所。他在高中時喪父，儘管得以合法打工，但生活仍然困難，雖有社工和朋友的幫忙，依然無法脫離錢不夠用的困境，甚至一直處在借錢的債務人身分。最後他只好回到那習慣的生活方式——偷：「年紀到了」，則到監獄坐牢服刑期。

出獄後，阿甘想對過去的自己說：「可以先尋求幫助，如果真的不行的話，找警察吧！無論如何，我會試著找尋一些新的管道，接受別人幫助，不要走偏。」

與阿甘類似的故事，在少年法院屢見不鮮。我國司法法院建置「行政先行」機制，在 2023 年 7 月 1 日後，先由「少年輔導委員會」結合福利、教育、心理、醫療等相關資源，對曝險少年施以適當輔導，如評估確有必要，才請求少年法院處理，實現行政輔導先行，再以司法為後循，協助曝險少年不偏離常軌，不受環境危害。

14. 根據上文判斷，阿甘喪父前的違法行為，適用何項法律處理？(Ch4.習作)
- (A) 《少年事件處理法》
(B) 《社會秩序維護法》
(C) 《刑法》
(D) 《兒童及少年福利與權益保障法》。
15. 關於阿甘的故事，下列敘述何者正確？(Ch4.習作)
- (A) 阿甘是生長在隔代教養家庭的環境
(B) 高中時與人借錢是受到刑法的規範
(C) 喪父前的違法行為屬少年保護事件
(D) 出獄後如再犯罪會被少年法院審判。
16. 上文中「年紀到了」是指年滿幾歲？(Ch4.習作)
- (A) 14 歲
(B) 18 歲
(C) 20 歲
(D) 23 歲。

試題結束

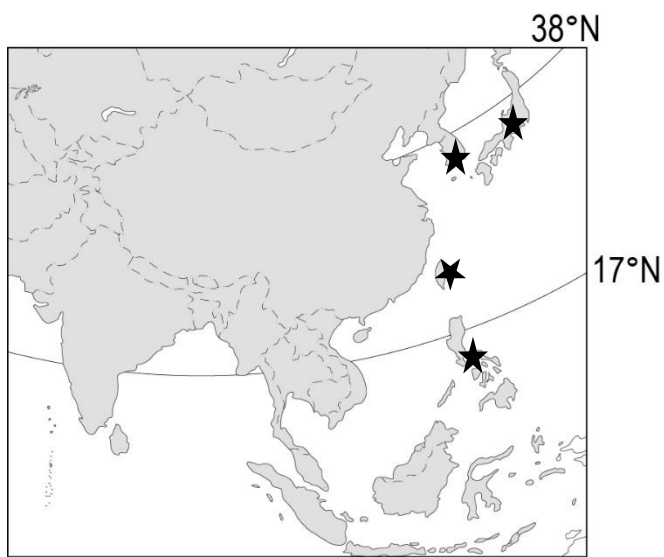
【讀卡科目請依規定畫卡，若有違反畫卡規

定而影響讀卡作業之情事，一律扣總分5分。】

17. 當時蘇聯擁有最多漢學家的「中國研究中心」，蘇共標舉「要了解中國這位朋友，只要由中國人的作品去了解就夠了」的口號，大量翻譯當代中文作品與古典名著。一位蘇聯漢學家開玩笑說，今天較著名的中文經典作品幾乎都已譯成俄文，還得歸功中、蘇共曾有過這段「甜如蜜」的交情。請問該學者回憶的時間最有可能是在下列哪個時代？(P121)

- (A)1930年代初期
(B)1950年代初期
(C)1970年代初期
(D)1980年代初期

18. 冷戰時期，以美、蘇為首的民主與共產陣營互相角力，東亞局勢詭譎。請問：一九五〇年代之後，關於如圖所標示★的這些國家，下列敘述何者錯誤？(P128)



- (A)美國試圖建立圍堵共產體系
(B)這些國家皆為東南亞公約組織成員
(C)都與美國保持軍事、經濟合作關係
(D)這些皆為反共產勢力的國家。

※第19題~第20題為題組，請閱讀以下文章後回答問題：

鄧小平去世時，中共高層發布悼詞：「1980年代末、1990年代初，國內外發生政治風波，黨和政府在鄧小平同志與其他同志堅決有力的支援下，依靠人民，堅決維護國家的獨立、尊嚴、安全和穩定……。」

19. 上文的悼詞中的「國內外發生政治風波」包括下列哪一事件？(習作)
- (A)越戰爆發
(B)中蘇交惡
(C)六四天安門事件
(D)文化大革命
20. 關於鄧小平的事蹟下列何者錯誤？(P123)
- (A)在他任內中華人民共和國與美國建交
(B)致力改善與蘇聯的緊張關係，雙方恢復正常往來
(C)文革結束後致力於經濟發展與改革開放
(D)接受學生建言推行民主政治改革，受國際尊崇

21. 小璫在閱讀一本關於中國農村歷史的書，書中描述了人民公社的生活。小璫對人民公社的運作方式感到好奇，想知道人民公社制度是在什麼背景下建立的，其主要特點是什麼？下列何者較有可能是小璫查到的內容？

- (P120)
- (A)為了實施土地改革，平均分配土地
(B)為了推動改革開放，發展農村經濟
(C)為了控制知識分子，實施思想改造
(D)為了提高農業產量，實行集體生活

22. 二十世紀起，美國積極介入國際事務。1960年代起，亞洲某一場以美軍為主力的軍事行動中，美國除了原子彈沒有動用外，幾乎把當時的尖端武器如直升機等都用了，也付出三十多萬傷亡的代價，最終還是被迫撤離。這場軍事行動的地點，最有可能是下列何地？(習作)

- (A)朝鮮半島
(B)越南
(C)柬埔寨
(D)泰國

※第23題~第25題為題組，請閱讀以下文章後回答問題：

1953年中共中央決定聘史學家陳寅恪為中國科學院歷史研究所第二所所長，但他答覆：「我要請的人，要帶的徒弟都要有自由思想、獨立精神。……因此，我提出第一條：『允許中古史研究所不宗奉馬列主義，並不學習政治。』」

然而陳寅恪晚年失明，工資被「造反者」凍結，此外珍藏多年的大量書籍、詩文稿，多被洗劫，並將大字報貼滿了他家牆壁，甚至貼到臥室，貼到枕頭邊。「造反者」居然還發明了對付盲人學者的獨特批鬥法，將喇叭設在他床前，「讓反動學術權威聽聽革命群眾的憤怒控訴」。

在那個人性殘酷面的歲月裡，陳寅恪還是得到一些尊敬與溫情。時任中山大學歷史系主任劉節，有人暗示他批判其師陳寅恪以自保，他拒絕。甚至他挺身而出，代陳接受批鬥。他說，「我的學問遠不及我的老師，今天我能替代他是我的光榮。」1969年10月7日，陳寅恪因心力衰竭逝世。

23. 根據上文，陳寅恪晚年所遭逢的事件是下列何事？(P122)

- (A)人民公社 (B)改革開放
(C)文化大革命 (D)大躍進。

24. 關於上文描述的運動所使用的口號最有可能是下列何者？(P122)

- (A)社會主義和諧社會 (B)讓一部分的人富起來
(C)以鋼為綱，全面躍進 (D)破四舊、立四新

25. 關於此事件所造成的影響下列何者正確？(P122)

- (A)造成嚴重的大饑荒，估計有三千萬人死亡
(B)「造反者」保護中國傳統文化，堅決反對崇洋媚外
(C)中共與蘇聯因領土交惡，積極爭取聯合美國對抗蘇聯
(D)在造反有理的氛圍下吸引了對現狀不滿的歐美青年

後面尚有試題，請繼續作答

新北市立中正國民中學113學年度第二學期八年級社會科第三次段考試題

範圍：公民 B4L5~6、歷史 B4L5~6、地理 B4L5~6 班級：_____ 座號：__ 姓名：_____

26. 下圖為當時中國協助其他國家時，國內宣傳畫之一。請問：關於這場戰爭敘述何者**錯誤**？(P129)



- (A)中共因出兵援助周邊共產國家，國際影響力大增
(B)越南原先為英國殖民地，二戰後分裂成南北越。
(C)美國因國內的反戰壓力，最終黯然退出該國戰場。
(D)越南統一後西貢市改名胡志明市以紀念越南國父。

※第27題~第28題為題組，請閱讀以下文章後回答問題：

【大逃港】被遺忘的記憶和被遺忘的人

1949年後，中國開始由共產黨執政。當時因為戰後經濟困難，糧食短缺、政策劇變，許多人生活困苦。尤其在「三年困難時期」，廣東地區發生大饑荒，讓許多人下定決心偷渡香港，這些人被稱為「逃港者」。香港市民自發的幫助近2萬名偷渡者成功潛入市區，許多香港員警也不忍心抓捕這些人。

1970年代後期，中國經濟方面，開始推動「改革開放」。卻引發更大逃港潮。民眾因不信任政策穩定，趁管制鬆動蜂擁偷渡。5月6日，近十萬人湧向深圳邊境，場面失控，邊防鳴槍也無法阻止人潮越界。從1950年代到1970年代，中國一共出現四次大規模的逃港潮，估計超過50萬人次。

27. 請問上文中提到的【「三年困難時期」，廣東地區發生大饑荒】最有可能是發生了下列何事件所導致的？(P120)

- (A)喊出超英趕美，人民過度勞動，農業產量下滑
(B)全國發生反政府的示威抗議，中共強力鎮壓
(C)沒收地主土地、私人企業，全部收歸國有
(D)抗美援朝，糧食援助鄰國反而造成國內飢荒

28. 請問關於1970年代後期中共推行的「改革開放」政策，下列何者正確？(P123)

- (A)實施人民公社 (B)成立經濟特區
(C)設置加工出口區 (D)政治民主化

29. 由於美國為應對遠東的威脅，美日兩國於1951年9月8日在舊金山簽署《美日安全保障條約》，因此「日本出基地，美國出軍隊」的美日合作成為冷戰時期主導遠東事務的基本模式。至今日本仍是海外美軍駐紮人數最多的國家。請問「遠東的威脅」應當指的是以下何者？(P129)

- (A)韓戰爆發 (B)越戰爆發
(C)中華民國遷臺 (D)日本佔領菲律賓。

30. 1972年2月，時任美國總統尼克森歷史性訪華，中方決定將大熊貓作為珍貴禮物送給美國。而美方贈送中國兩頭阿拉斯加麝牛。「玲玲」和「興興」首次對美國公眾亮相時，2萬名遊客慕名而來。請問1972年中國想透過熊貓外交達到什麼目的？(P121)

- (A)爭取美國同意並要求加入聯合國
(B)吸引美國的支持，並投資經濟特區
(C)想藉此改善兩國關係，共同對抗蘇聯
(D)宣傳文化大革命與毛澤東思想

31. 以下是二戰後關於東亞與東南亞的重要大事，請選出正確的排列順序：(P129-131)

- (甲)美國退出越南戰場
(乙)韓戰爆發
(丙)東南亞公約組織成立
(丁)冷戰結束，東協逐漸轉型注重經貿合作。
(A)乙丙甲丁 (B)丁甲丙乙
(C)丙乙甲丁 (D)甲乙丙丁

32. 阿宸很認真的準備社會科段考，因此自己製作了表格比較以下這兩個國際組織。阿宸請同學幫忙看他製作的表格是否有誤，關於同學們的討論下列何者**正確**？(P130-131)

	東南亞公約組織	東南亞國家協會
會旗		
目的	圍堵共產勢力的擴張	東南亞國家的區域統合
開始時間	冷戰期間	冷戰期間
結束時間	~ 迄今	1977年解散

- (A)小均：這兩個組織的旗幟相反了！
(B)阿彬：這兩個組織台灣都有加入吧！
(C)小叡：結束的時間錯了兩個相反了！
(D)小筑：東南亞國家協會是美國支持下成立的！

33. 關於某場戰爭，毛澤東分析北韓若派軍南攻，駐日美軍將迅速反擊，因而建議北韓不要南攻，但北韓仍舊出兵。該戰事的結果為何？(習作)

- (A)雙方至今仍以停戰線為界
(B)南韓反攻消滅北韓統一半島
(C)朝鮮半島遭到中美兩國瓜分
(D)北韓順利滅南韓統一半島

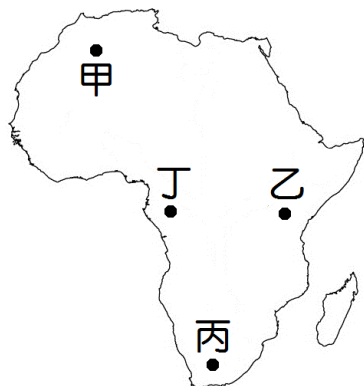
後面尚有試題，請繼續作答

【讀卡科目請依規定畫卡，若有違反畫卡規

定而影響讀卡作業之情事，一律扣總分5分。】

※34至36題為題組，閱讀下列圖文後回答問題：

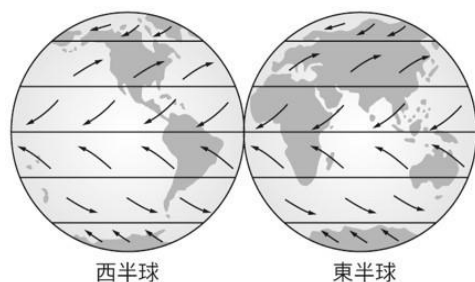
右圖為非洲重要地理區圖，依據右圖回答下列34~36問題 圖(一)



34. 「由印度洋吹來的東風抵達這座位於赤道附近的世界名山之後，水氣在陡然上升的過程中凝結，因此高聳入雲的山頂白雪皚皚，形成『赤道雪峰』的奇觀。」上述名山應是位在圖(一)何處？(P.63)

(A)甲 (B)乙 (C)丙 (D)丁

35. 承上圖(一)，「每年大約會有2,500萬至5,000萬噸的沙子隨著盛行風，飄移到西印度群島與南美洲的北部。」根據附圖中的全球盛行風向判斷，文中所述的「沙子」最可能來自圖(一)哪一個地區？(P.64)

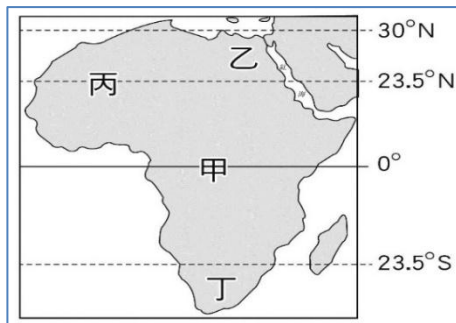



(A)甲 (B)乙 (C)丙 (D)丁

36. 非洲這幾年以其豐富的生態景觀、多元族群文化及獨特的環境特色吸引旅遊人潮，若全球連鎖飯店業者計畫在圖(一)四處地理區興建飯店，並配合在地特色推出觀光套餐，下列何種套餐較符合當地環境特色？(P.62)

- (A)甲地:馬賽馬拉國家自然保留區體驗動物大遷徙冒險旅程
- (B)乙地:探索剛果雨林豐富的動植物生態
- (C)丙地:參觀世上最大的「和平鑽石礦坑-金伯利鑽石大坑洞」
- (D)丁地:參加摩洛哥7日6夜橫越撒哈拉沙漠馬拉松

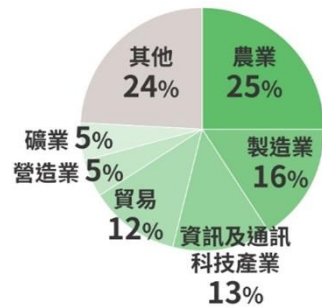
37. 在非洲有一種原始性農業，農民藉由焚燒森林以取得土地，林木的灰燼成為農地的天然肥料，故有「火耕」之稱。待一地的地力耗盡，便移往他處另闢新耕地，周而復始，流程附圖所示。請問：上文描述的是位在下圖(二)中何處？(P.72)



圖(二)

(A)甲 (B)乙
(C)丙 (D)丁

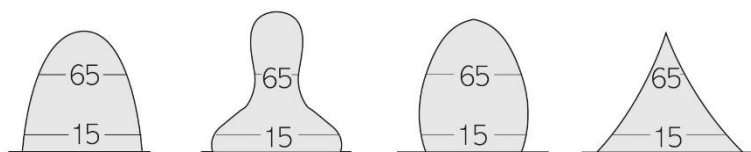
38. 附圖為2023年西非奈及利亞GDP統計圖，其GDP最主要來源為農業。奈及利亞過去一度是世界上最大的○○出口國，約有60%的奈及利亞人從事農業生產。文中空格處最可能為哪些農產品？(P.72)



(A)葡萄、橄欖油 (B)可可、橄欖油
(C)可可、棕櫚油 (D)柑橘、椰棗

39. 世界上政經最不穩定的國家，非洲有七個，為索馬利亞、查德、蘇丹、辛巴威、民主剛果、中非、幾內亞。其出生率、死亡率與人口增加率均為世界第一，請問這些非洲人口金字塔圖形為下列何者？(P.74)

(A) (B) (C) (D)



40. 非洲大陸自由貿易協定是非洲44個國家簽署的貿易協定，其宗旨在促進區內自由貿易、消除關稅、降低貿易障礙等，並促進各國商品、勞動力與資本自由流動，實現「非洲經濟共同體」的目標。請問:21世紀後，大量資金跟技術的投入使漠南非洲的經濟呈現跳躍式發展，例如當地居民常以何種方式聯繫彼此？(P.77)

(A)書信 (B)手機 (C)市內電話 (D)電報

41. 承上題，漠南非洲雖具有經濟發展的實力，但因漠南非洲歷年饑荒不絕，面臨嚴重的糧食問題，成為國際長年關注的焦點。除氣候與戰爭因素外，漠南非洲常見饑荒主要尚與下列哪些原因有關？(P.75)

- (甲)過度的開墾導致沙漠化加劇
- (乙)經濟作物種植排擠糧食作物
- (丙)出生率下降導致高齡化嚴重
- (丁)大量技術移民進入境內謀生

(A)甲乙 (B)甲丙 (C)乙丙 (D)乙丁

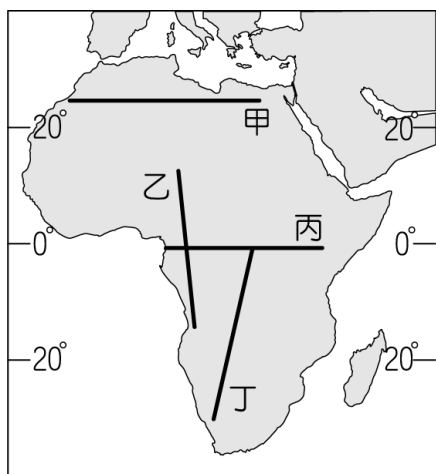
42. 盧安達位於東非，於西元1994年爆發非洲近代史上最大的種族大屠殺。電影《盧安達飯店》，講述了一位盧安達胡圖族飯店經理，如何在種族仇殺中設法挽救1000多位圖西族和胡圖族難民的故事。以盧安達的位置判斷，胡圖族與圖西族較可能屬於哪種族群？(P.69)

(A)馬拉加西人 (B)歐洲裔白人 (C)阿拉伯人 (D)黑人

新北市立中正國民中學113學年度第二學期八年級社會科第三次段考試題

範圍：公民 B4L5~6、歷史 B4L5~6、地理 B4L5~6 班級：_____ 座號：____ 姓名：_____

43. 漠南非洲的植物景觀受到地理位置分布的影響相當大，請問：在圖(三)四處剖線中何處能觀察到附圖中的植被分布狀況？(P.64)



圖(三)

- (A)甲 (B)乙 (C)丙 (D)丁

44. 奈及利亞石油與天然氣產量是非洲第一，有「非洲石油小巨人」之稱，石油輸出國組織（OPEC）第四大產量國，但國內使用的石油80%卻必須仰賴進口，形成「出口原油，進口精煉石油」的詭異現象。每當國際石油價格崩跌，皆會重創奈及利亞的經濟。請問：該現象的成因最可能為何？(P.79)
- (A)石油輸出國組織（OPEC）控制原油價格
(B)石油蘊藏量不足
(C)無法掌控關鍵生產技術
(D)發達國家刻意傾銷石油
45. 近年漠南非洲部分國家的經濟發展快速，人民的平均生活水準也逐漸提升。圖(四)為2024年漠南非洲部分國家經濟成長率預測圖，根據此圖，下列哪個分析最為正確？(P.76)



- (A)南非在2024年的經濟成長率在漠南非洲平均以上
(B)成長率較高的國家主要發展高科技產業
(C)經濟快速成長與電力普及率高於世界平均有關
(D)充足且低廉的勞動力為漠南非洲的優勢
46. 近年來，肯亞變身為非洲「草原矽谷」，全國人民有99%的人持有手機、上網，且行動支付的發展也讓人驚訝。肯亞與此相關的產業出口額，從西元2002年的1,600萬美元，飆升到西元2010年的3.6億美元，成長21.5倍。肯亞每100人中就有74位有手機，且99%的上網用戶都

是用手機上網。請問：肯亞直接跳過固網而發展行動網路，主要的原因為何？(P.77)

- (A)曾經被殖民的背景
(B)人民大多從事第一級產業為主
(C)基礎設施不足
(D)文盲人口較多
47. 奈及利亞的電影劇情多展現當地的生活與文化，時常被非正式地稱作「奈萊塢」，其歷史最早可以追溯到19世紀末至20世紀初的殖民時代。目前奈及利亞的人口超過2.2億人，是全球人口第6多、全非洲人口最多的國家。根據預測，2050年左右奈及利亞將會成為全球人口第3多的國家，也因此使得奈萊塢的發展指日可待。上述主要說明了奈萊塢的哪項發展優勢？(P.79.)
- (A)資金充足 (B)原料豐富
(C)市場廣大 (D)動力充足

※48至50題為題組，閱讀下列圖文後回答問題：

東非衣索比亞是世界上最早發現阿拉比卡品種咖啡樹的地方，在該國中、東部的哈拉高地，產有著名的哈拉摩卡，具有特別的葡萄酒香與果酸，和西亞葉門所產的摩卡，都是屬於高品質的咖啡。然而摩卡港在葉門，為什麼衣索比亞產的咖啡也叫摩卡呢？

這是因為衣索比亞的咖啡也是由葉門的摩卡港出口，所以也以摩卡來命名。

48. 根據上文，衣索比亞適合栽種摩卡咖啡的地區，有下列哪種氣候特徵？(P.64)
- (A)全年高溫多雨 (B)全年高溫乾濕季分明
(C)年溫差不大夏乾冬雨 (D)年溫差不大氣候涼爽
49. 早期將衣索比亞的哈拉摩卡咖啡送至摩卡港出口，最可能需要經過下列哪片海域？(P.63)
- (A)大西洋 (B)地中海 (C)紅海 (D)黑海
50. 除了「衣索比亞」外，其他也有以地名來命名的咖啡例如「吉力馬札羅」、「藍山」。在現代漠南非洲仍延續殖民時期的經濟型態，以礦業與熱帶栽培作物為主要輸出品，此種經營方式容易面臨下列哪些經濟問題？(P.72)
- (A)糧食生產供給過剩
(B)國內勞工供應短缺
(C)人口增長速度太快
(D)易受國際市場價格影響