

【讀卡科目請依規定畫卡，若有違反畫卡規定而影響讀卡作業之情事，一律扣總分 5 分。】

### 一、選擇題

1. 附圖是一齣連續劇中某角色的臺詞，根據內容判斷，該角色認為自己受到哪些面向的不公平對待？  
(p.195~196)

「我為這個家做牛做馬這麼多年，結果父親還是把所有家產都分給那個好吃懶作的哥哥！」

- (A)需求滿足、利益分配 (B)需求滿足、責任承擔  
(C)貢獻肯定、責任承擔 (D)貢獻肯定、利益分配
2. 下列四人所舉的社會變遷實例中，何者為社會變遷中最明顯的現象？ (p.194)
- (A)心怡：傳統土葬習俗轉變成今日的火葬、樹葬  
(B)存希：即時通訊軟體逐漸取代紙筆書信，成為現代人際互動的重要媒介  
(C)安娜：菸害防制法的修訂讓公共場所全面禁菸  
(D)珍珠：性別平等觀念使得女性的工作地位提升
3. 目前社會存在各種不公平現象，下列何者主要在說明社會變遷惡化個人或群體所面臨的不公平處境？  
(p.195~196)
- (A)政府制定《家庭暴力防治法》，家暴被害人可依法聲請保護令  
(B)政府建立「台灣原住民數位博物館」，蒐藏、保存原住民族文化  
(C)偏鄉地區客流量低，運輸業者考量成本過高、無利可圖，決定停駛  
(D)科技業者研發以眼球活動控制電腦系統操作，建立身心障礙者溝通能力
4. 下列何項敘述屬於「器物帶動制度」的社會變遷？  
(p.194)
- (A)環保議題升溫，政府訂出塑膠製品的使用規定  
(B)自動駕駛車輛出現後，法律配合調整界定肇事責任的歸屬  
(C)現代人注重養生，於是業者推出低糖少油的月餅口味  
(D)酒駕罰則提高後，建立民眾避免酒駕的心態
5. 幸福市交通局為提升視障朋友通過路口的安全，特別在鄰近醫院、捷運站等周邊路口，設置智慧有聲號誌，讓視障朋友只要透過手機 APP 語音輔助及藍芽自動觸發設備，就可以掌握行人號誌綠燈剩餘秒數，提升行的安全。」上述政府單位的做法旨在展現下列何種意涵？  
(p.198~199)
- (A)促進社會變遷 (B)維護社會秩序  
(C)增進公共利益 (D)實現公平正義

6. 以下是阿聖在網上瀏覽到的文章，根據他的理解，憲法法庭的判決呈現何種意義？ (p.198~199)

一名女性應考者報考消防員，卻因身高限制未能通過檢定，她認為自身權益受到侵害，聲請釋憲，經過憲法法庭審理，認定該項考試規則在身高上的標準排除女性的比例高於男性，最終導致男性錄取的人數高於女性，違反《憲法》平等權以及女性的工作權，憲法法庭判決相關法規自即日起最遲屆滿一年後失效

- (A)保障所有人公平取得資源的機會  
(B)呼籲政府機關建立民眾申訴管道  
(C)宣告個人能力發展在性別上有所差異  
(D)支持個人勞動利益得到合理分配
7. 一般來說，公平正義首先是確保每個人得到均等的機會，其次是在這個前提下，讓弱勢者得到更多照顧。下列何者最符合上述的內涵？ (習作 p.54)
- (A)多數的民眾都有社會住宅的需求，應規定所有民眾不分資格一律抽籤  
(B)為保障身障者就業，應規定錄取所有身障應徵者後，再錄取一般民眾  
(C)原住民學生就讀大學的名額採取外加方式，不占各大學的原招生名額  
(D)辦理國中教育會考，全國考生使用同樣的試卷，規定同樣的作答時間
8. 「喘息咖啡」是中華民國家庭照顧者關懷總會〈簡稱「家總」〉對於家庭照顧者的關注，他們發現除了生病的人需要關懷外，往往忽略有照顧者在長期照顧親人下，儘管有他人接手部分時間，卻不知該做什麼或是不知如何休息。因此家總與有意願的店家合作，每年提供照顧者一定額度的「喘息咖啡」，鼓勵困在照顧工作中的照顧者有動力走出來，讓疲憊的身心重新獲得能量，更能得到現實生活需要的資源與協助。下列關於「喘息咖啡」的敘述何者正確？ (p.199)
- (A)目的在維持個人基本生活以保障人性尊嚴  
(B)由政府整合民間資源以實踐合理的差別待遇  
(C)透過民間力量彌補社會福利中易忽視的項目與對象  
(D)建立民眾正確的醫療資源使用觀念以減少社福經費的浪費

新北市立中正國民中學113學年度第二學期七年級社會科第三次段考試題

範圍：公民 B2 L5~6、歷史 B2 L5~6、地理 B2 L5~6 班級：\_\_\_\_\_ 座號：\_\_ 姓名：\_\_\_\_\_

9. 附圖是一家媒體在記者會上的提問，根據圖中內容判斷，政府的回應較可能是下列何者？ (p.207)

美國失業率繼續攀升，顯示就業市場疲軟，對經濟發展產生負面影響，多名專家學者對未來持悲觀態度，若以美國狀況為鑑，在提高就業率方面，我國政府實施的社會福利措施有什麼？



- (A)擴大辦理勞工保險 (B)開設職業訓練課程  
(C)開放急難救助申請 (D)給予中小企業補助

10. 附圖為一對夫妻的對話，其對話內容應與何項社會福利措施有關？ (p.205~207)



- (A)社會津貼 (B)社會保險  
(C)福利服務 (D)社會住宅

11. 行政院《社會福利政策綱領》中有一段內文——

國民年金制度之設計應足以保障國民因老年、身心障礙，及死亡等事故發生後之基本經濟安全，以及達到國民互助、社會連帶、世代間公平合理的所得重分配為原則。

下列有關「國民年金」的敘述，何者正確？ (p.205)

- (A)屬於社會互助和風險分擔的強制性措施  
(B)以全體國民為實施對象  
(C)是針對失業人口所發放的社會津貼  
(D)主要在協助低收入戶維持基本生活水準

12. 下課時，幾位同學在討論社會福利的內涵與發展歷程，根據內容判斷，何者的說法完全正確？ (習作 p.56)

- (A)小東：檢視社會福利的發展歷程可以發現，政府是最早提供相關資源的機構  
(B)小西：工業革命時期，社會福利著重透過政府具體作為提升全民的生活福祉  
(C)小南：近年社會福利是指政府負責整合社會資源，以保障全民應有的生活權益  
(D)小北：現行的社會福利注重弱勢群體的權益保障，實施對象不包括一般民眾

13. 我國社會福利政策的實施項目相當多元，下列配對何者正確？ (p.205~207)

- (A)發放災害慰問金——社會津貼  
(B)設置老人日間照顧中心——福利服務  
(C)提供受虐婦女安全庇護場所——社會救助  
(D)青年安心成家購屋優惠貸款——國民就業

14. 社會福利是政府提供的公共服務措施，有關「社福資源的利用」，下列何人的心態最正確？ (p.209)

- (A)小春：我借用表弟的低收入戶資格申請社會住宅，省了好多錢  
(B)小夏：上回氣爆，我去災區附近拿了很多免費物資  
(C)小秋：我找到工作後就沒領政府的補助，把錢留給有需要的人  
(D)小冬：我每個月都有繳健保費，所以沒病也要去看醫生

15. 根據附圖中的對話判斷，政府的做法與下列何者屬於相同的社會福利內容？ (p.207)



- (A)推出復康巴士 E 化管理，方便民眾搭乘  
(B)提供生育補助  
(C)增加全民健保的補充保費  
(D)推動巡迴醫療服務

16. 在探討一國國內不同地區醫療資源差異時，通常會先觀察醫師人數和病床數，由相關數據與人口數的相對關係，可大致推論一個地區的醫療資源是否不足。附表是某國 2050 年四個地區關於人口與醫療資源的資料： (p.207)

地區	人口總數(人)	老年人口比例(%)	醫師人數(人)	平均每位醫師負擔人數(人)	病床數(張)	平均每張病床負擔人數(人)
甲	2,562,738	19.50	9,719	263.7	19,951	128.5
乙	2,272,459	13.26	3,824	594.3	11,988	189.6
丙	673,309	19.42	881	764.3	3,204	210.1
丁	322,836	17.95	820	393.7	4,073	79.3

根據表中資料判斷，關於甲、乙、丙、丁四個地區的醫療資源，下列何項推論最適當？

- (A)人口總數最少的地區醫療資源最為不足  
(B)老年人口最多的地區醫療資源最為不足  
(C)相對於其他地區，乙地區的醫療資源最為不足  
(D)相對於其他地區，丙地區的醫療資源最為不足

後面尚有試題

新北市立中正國民中學113學年度第二學期七年級社會科第三次段考試題

範圍：公民 B2 L5~6、歷史 B2 L5~6、地理 B2 L5~6 班級：\_\_\_\_\_ 座號：\_\_\_\_ 姓名：\_\_\_\_\_

【讀卡科目請依規定畫卡，若有違反畫卡規定而影響讀卡作業之情事，一律扣總分 5 分。】

★郭雲天在閱讀報紙時，注意到有一篇文章提到中華人民共和國對於臺灣的政策變化。文章中提到如下兩則資料，請閱讀後回答第17-19題：

資料一：中國人民解放鬥爭的任務就是解放全中國，直到武力解放臺灣、海南島和屬於中國的最後一寸土地為止。

資料二：「和平統戰」是解決中國統一問題的基本方針。

17. 根據資料中提到的政策轉變，試判斷「資料一轉變成資料二」可能發生在哪個時間點？(P.126)

- (A) 兩岸之間正式實施三通
- (B) 中華民國開放總統直選
- (C) 中華人民共和國與美國建交
- (D) 國共內戰結束

18. 以下哪一項事件不是發生在資料一的政策實施時期？(P.126)

- (A) 中華民國解除《戒嚴令》
- (B) 八二三炮戰
- (C) 古寧頭戰役
- (D) 中華民國政府遷臺

19. 面對著中華人民共和國的「和平統戰」政策，(資料二)中華民國政府當時是以何種政策回應？(P.126)

- (A) 一國兩制
- (B) 三不政策
- (C) 三通四流
- (D) 務實外交

20. 郭雲天是一位來自中國大陸的青年，來到臺灣求學期間與臺灣女孩林雪芬相識相戀，最終兩人決定結婚並在臺灣定居。由於對於兩岸婚姻相關的法律與程序不太了解，他們希望尋求專業機構的協助。請問下列哪一個機構最適合他們諮詢？(P.127)

- (A) 海協會
- (B) 海基會
- (C) 國臺辦
- (D) 陸委會

★古阿明在歷史課堂上聽到老師在講解「美援」時，黑板上有如下兩則資料，請閱讀後回答第21-22題：

資料一：從 1951 年至 1965 年為止，我中華民國接受了來自美國的大量經濟與軍事援助，包括提供近 15 億美元的經濟援助及軍用品支持，並派遣軍事顧問團協助軍事演練。

資料二：1953 年，中華民國政府透過宣導「多吃麵，少吃米」的口號，推動飲食習慣的改變。

21. 根據資料一，美國援助的背景與哪一場戰爭有關？(P.128)

- (A) 國共內戰
- (B) 中日八年抗戰
- (C) 第二次世界大戰
- (D) 韓戰

22. 臺灣當時並不產麥，資料二卻顯示中華民國的口號是如此，這可能與當時的時代背景有關。請問，以下何者是正確的原因？(P.131)

- (A) 「以農業培養工業」政策，稻米須出口賺取外匯
- (B) 美援物資中有許多麵粉

(C) 當時只生產口感較不佳的在來米

(D) 稻米須援助國外友邦，進行務實外交

★古石松是一位歷史學者，正在研究我國與國際組織的互動歷史。以下是一份歷史文告的節錄，請根據資料回答第23-24題：

『海內外全體同胞們，第\_\_\_\_屆聯合國大會違反憲章規定，通過阿爾巴尼亞等附和匪國家之提案，牽引毛共匪幫竊取中華民國在聯合國及安全理事會中的席位；我們本「漢賊不兩立」之立場及維護憲章之尊嚴，已在該案支付表決之前，宣布退出所參與締造的聯合國……。』

23. 根據文告內容，請判斷此文告最有可能是哪個時期所發布？(P.129)

- (A) 西元1950年代
- (B) 西元1960年代
- (C) 西元1970年代
- (D) 西元1980年代

24. 根據此文告，下列敘述何者為真？(P.129)

- (A) 我國在文告發佈後，美國國會則通過《臺灣關係法》與我國維持非官方往來
- (B) 我國在文告發佈時正值李登輝總統在任，此後不再堅持中華民國是代表中國的唯一合法政府
- (C) 我國在文告發佈後，為和緩兩岸關係，隔年在新加坡進行首次「辜汪會談」
- (D) 我國在文告發佈後，改採彈性外交政策，致力發展與非邦交國家之間的經濟、文化關係

25. 在臺灣的某一時期，由於經濟動盪，物價飛漲，臺北的電影票價在短短四年間經歷了多次驚人的調整：從 20 元漲至 60 元，再到 700 元，甚至高達 40,000 元，最後改為 2 元 3 角。這一現象反映了當時貨幣的嚴重膨脹。請問這應是指哪一時期？(P.134)

- (A) 1946~1949 年
- (B) 1956~1959 年
- (C) 1966~1969 年
- (D) 1976~1979 年

26. 臺灣某個時期「政府強勢收購地主土地，再轉售給實際耕作的農民，許多農民因此開始有了自己的耕地。但農民並非無償取得土地，他們必須分擔改善灌溉設施的費用，並以分期付款的方式來獲得土地的所有權。」這是對哪一項政策的描述？(習作 P.36)

- (A) 耕者有其田
- (B) 三七五減租
- (C) 公地放領
- (D) 設置原住民保留地

27. 在歷史課上，老師提到：「某時期，臺灣的經濟政策著重於讓國內製造民生必需品，減少進口支出，並扶植國內廠商崛起，紡織業成為當時的重要產業之一。」請問，這段描述最可能是指哪一經濟政策？(P.135)

- (A) 十大建設
- (B) 進口替代
- (C) 產業升級
- (D) 出口導向

28. 自西元1960年代起，許多東部的阿美族人逐漸移居至今新北市，形成了今日新店區與三峽區的阿美族聚落。假設你是一位記者，正在撰寫一篇報導，主題是探討這種人口遷移現象的原因。請問，當時阿美族人離開東部的主要原因是什麼？(P.137)
- (A) 花東地區空氣汙染嚴重  
(B) 耕者有其田政策導致土地流失  
(C) 新北市擁有較多的工作機會  
(D) 新北市較重視原住民文化
29. 在某次歷史課堂活動中，老師提到臺灣原住民的名稱變遷，從「番」到「山地同胞」，再到如今的「原住民族」。老師進一步解釋，這些名稱的改變反映了社會對於原住民的認知與態度的轉變。以下何者最能正確詮釋名稱變遷背後的意涵？(P.137)
- (A) 日治時期總督府將原住民分為生番與熟番  
(B) 名稱轉變象徵臺灣對多元族群的尊重  
(C) 山地同胞的稱呼是從清政府開始使用  
(D) 原住民正名是由政府自主推動的政策
30. 在一堂歷史課上，老師展示了一張戰後初期的國民學校照片，照片中清晰可見「我要說國語，不說方言」的標語。老師提到這與當時政府推行的某項政策有關。請問，這項政策是什麼？(P.138)
- (A) 本土化政策 (B) 推廣中華文化  
(C) 民生主義政策 (D) 多元語言政策
31. 在一則新聞報導中，你看到一位來自印尼的新住民莫愛芳，因其在臺灣努力生活的故事感動了許多人，並以自然生動的演技獲得金鐘獎的肯定。這位新住民的成就不僅展現了個人努力，也反映了臺灣社會的一個重要特質。請問，這是哪一特質？(P.139)
- (A) 經濟自由化 (B) 社會法治化  
(C) 文化多元化 (D) 政治民主化
32. 在西元1970年代，臺灣的知識分子掀起了一股關注鄉土與社會的熱潮，這種現象引發了人們對當時社會變遷的深刻反思。當時，我國面臨國際外交上的重大挑戰，這些事件促使知識分子重新審視本地文化與社會議題。請問，這些反思與行動的主要原因是什麼？(P.138)
- (A) 政府提倡促進族群融合  
(B) 蔣經國總統宣布解嚴  
(C) 政府鼓吹反共復國的愛國意識  
(D) 退出聯合國與美國斷交
33. 某部著作的內容：「整個共產黨的將來，也一定要像一陣旋風。他們雖然蓬勃一時，然而終必轉瞬即逝，消滅得無蹤無影，變成歷史的陳跡。……旋風，旋風，他們不過是一陣旋風！」這部作品屬於哪一種創作風格？(習作P.37)
- (A) 鄉土文學 (B) 反共文學  
(C) 寫實文學 (D) 現代文學

後面尚有試題

新北市立中正國民中學113學年度第二學期七年級社會科第三次段考試題

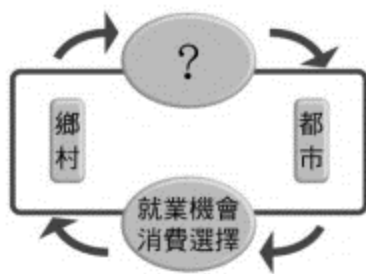
範圍：公民 B2 L5~6、歷史 B2 L5~6、地理 B2 L5~6 班級：\_\_\_\_\_ 座號：\_\_\_\_ 姓名：\_\_\_\_\_

【讀卡科目請依規定畫卡，若有違反畫卡規定而影響讀卡作業之情事，一律扣總分 5 分。】

34. 下列關於「都市」聚落的敘述，哪一個正確？ P.52

- (A) 都市有豐富的自然資源
- (B) 都市老年人口比例較高
- (C) 都市居民多從事二、三級產業
- (D) 都市的土地面積較大

35. 右圖為都市與鄉村彼此提供不同服務的示意圖。



請問圖中「？」為鄉村提供都市居民的項目。下列哪些項目可填入「？」？

- (甲) 教育 (乙) 休閒
- (丙) 原料 (丁) 糧食 (戊) 金融 (己) 醫療 P.53
- (A) 甲乙丙 (B) 乙丙丁 (C) 丙丁戊 (D) 丁戊己

36. 過多的人口造成都市地區環境問題惡化，加上交通的建設、網路科技的發展，開始減少工作和居住地同在一處的必要性，因此，都市居民逐漸向外遷往鄰近郊區。上述現象稱為下列何者？ P.59

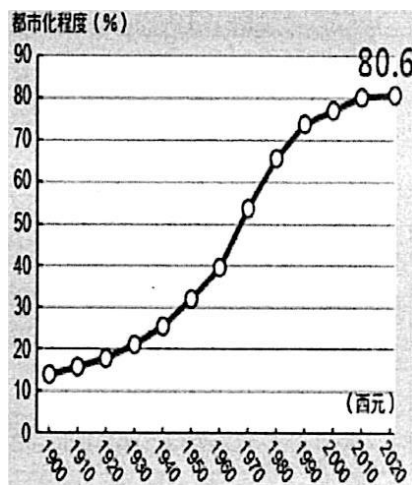
- (A) 都市化 (B) 工業化 (C) 郊區化 (D) 都會化

37. 下表為四個區域的三級產業結構資料，若單以產業結構來判斷，請問：哪兩個聚落的人口移入的現象可能較為明顯？ P.53

產業 聚落	第一級 (%)	第二級 (%)	第三級 (%)
甲地	57	16	27
乙地	22	38	40
丙地	84	7	9
丁地	9	32	59

- (A) 甲、乙 (B) 甲、丁 (C) 乙、丁 (D) 丙、丁

38. 右圖為臺灣都市化程度統計圖，請根據圖中資訊判斷，下列敘述何者錯誤？ P.59



- (A) 臺灣有 20% 以下的人口居住於鄉村聚落
- (B) 2020 年臺灣鄉村數量約有 80 個
- (C) 1970 年起臺灣都市人口高於鄉村人口
- (D) 都市化程度提升與社會增加率有關

39. 交通方式包括運輸和通訊。下列選項中，何者的性質與「利用網路寄送電子郵件」最為相似，同屬於非實體物品的傳遞方式？ P.54

- (A) 透過網際網路傳輸資訊 (B) 到便利商店寄送店到店
- (C) 搭乘高鐵從臺北到高雄 (D) 用管線輸送電力系統

40. 在國道 5 號尚未通車之前，臺北與宜蘭之間的交通，受地形阻隔，需藉由「九彎十八拐」的北宜公路往來，較為不便。請問：昔日臺北與宜蘭間往來的「天然屏障」，是指下列哪座山脈？ P.56

- (A) 雪山山脈 (B) 中央山脈 (C) 玉山山脈 (D) 海岸山脈

41. 下圖是臺灣鐵路分布圖，請問可將屏東平原與台東縱谷兩平原連接起來的是其中哪一段鐵路？ P.56



- (A) 甲 (B) 乙 (C) 丙 (D) 丁

42. 由上圖可知，如果欲從臺中搭乘火車前往花蓮，可以選擇「上行(經縱貫線→宜蘭線→北迴線)」或「下行(經縱貫線→屏東線→南迴線→臺東線)」到達花蓮，並沒有向東直行至花蓮的列車。請問：造成這種現象主要是受下列何種因素影響？ P.56

- (A) 河川流向 (B) 開發早晚 (C) 山脈走向 (D) 雨量多寡

43. 承上題，北迴及南迴路段是最晚通車的路線，不但途經多個隧道及橋梁，且有長達 20 公里的範圍經過罕無人跡的深山地區。請問：北迴及南迴路段建造的困難度與哪座山脈的分布最有關係？ P.56

- (A) 雪山山脈 (B) 中央山脈 (C) 玉山山脈 (D) 海岸山脈

新北市立中正國民中學113學年度第二學期七年級社會科第三次段考試題

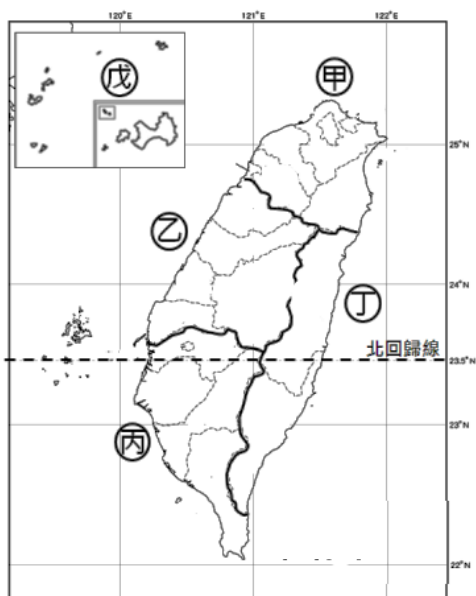
範圍：公民 B2 L5~6、歷史 B2 L5~6、地理 B2 L5~6 班級：\_\_\_\_\_ 座號：\_\_\_\_ 姓名：\_\_\_\_\_

44. 臺灣的交通建設已相當發達，但是至今哪一項交通方式仍深受自然環境影響而發展最為不佳？ P.57  
(A) 空運 (B) 河運 (C) 海運 (D) 鐵路

45. 臺灣高鐵運輸系統於 2007 年通車讓民眾皆可實現「一日生活圈」的生活型態。民國 112 年，每日平均載客量為 15 萬人次以上；若舉辦搭乘高鐵到各地旅遊的活動企劃，當中行程不包括下列何者？ P.65-68  
(A) 苗栗客家文化與山城之旅  
(B) 彰化人文歷史與老街之旅  
(C) 臺南歷史古蹟與美食之旅  
(D) 屏東東港黑鮪魚觀光之旅

46. 宜蘭縣早期因交通不便，因此與北部區域其他縣市相比，在經濟發展上較為緩慢，近年來宜蘭縣的觀光業愈趨興盛，不僅遊客增多，也吸引眾多國際集團到此投資飯店。請問：這和下列哪一條交通系統的興建關係最大？ P.65  
(A) 中山高速公路  
(B) 水沙連高速公路  
(C) 蔣渭水高速公路  
(D) 福爾摩沙高速公路

47. 關於下圖臺灣區域的發展特色，何者敘述正確？ P.65-68



阿中：甲區為臺灣唯一的科學工業園區所在地，有臺灣矽谷之稱

小正：乙區有臺灣最重要的花卉供應地，也是精密工業的重鎮

阿國、丙區：有臺灣最大的港口，重工業發達

小中：丁區人口稀少，該區從事第一級產業的人口數最多。

- (A) 阿中、小正 (B) 小正、阿國  
(C) 阿中、小中 (D) 阿國、小中

48. 對於臺灣區域發展差異的描述，下列何者為非？ P.70-73

- (A) 無線熱點以山地的密度最低  
(B) 醫院分布密度以花東地區最高  
(C) 六都的平均家庭所得高於其他地區  
(D) 專院校數量以六都最高

49. 臺灣平均每戶的可支配所得，以北部為最高，其原因和北部區域具有下列何種特性最有關係？ P.70

- (A) 為政治中心所在  
(B) 性別比例平均  
(C) 經濟發展程度較高  
(D) 人口最多、最密集

50. 考量 2024 年花蓮強震對在地產業的衝擊，除了政府的旅遊補助，下列哪一項最能結合花蓮的地理特色與永續發展理念，以促進震後的觀光及相關產業振興？ P.68

- (A) 鼓勵發展高耗能的重工業，創造大量就業機會。  
(B) 大幅降低觀光區的環境法規標準，吸引大型開發案。  
(C) 積極推廣具有環境教育意義的生態旅遊與文化深度體驗。  
(D) 暫停一切觀光推廣活動，等待環境完全恢復。

試題結束