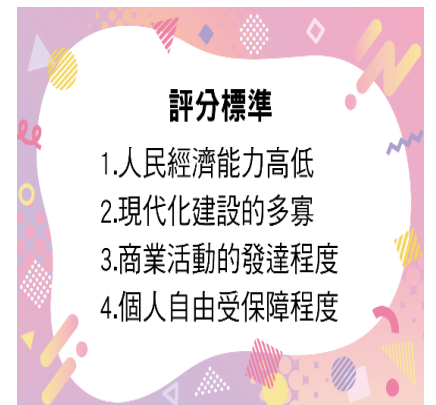


【讀卡科目請依規定畫卡，若有違反畫卡規定而影響讀卡作業之情事，一律扣總分 5 分。】

一、選擇題

- 小夫去參加靜香的婚禮，媽媽提醒他：「紅包禮金一定要包『雙數』才吉利。」小夫依照這項約定俗成的規矩準備禮金。這體現了文化的何種功能或特性？
(A)文化的制約性
(B)文化位階的產生
(C)次文化的形成
(D)主流文化的強制性 (P.174-176)
- 社會規範種類眾多，且常相互影響。下列何者最能說明「法律與非正式規範相互輔助」的關係？(P.184-186)
(A)法律是社會最低限度的行為準則，仍須其他規範配合維持秩序
(B)宗教信仰因為是至高無上的存在，可以隨意修改法律的內容
(C)法律完全獨立於文化之外，無須考量風俗習慣
(D)只要法律制定得夠完善，就不需要倫理道德了
- 美國雖然是個號稱自由平等的國家，但長期以來種族歧視問題卻從未停歇，許多白人仍然有白人文化是較高階文化而其他有色人種文化較為低下的觀念。這種將不同文化進行競爭、排序，並區分高低優劣的現象稱為什麼？(P.176-178)
(A)文化交流
(B)文化位階
(C)文化資產
(D)文化創新
- 為了保障多元文化，我國政府採取多項法律措施。下列哪一項做法符合政府保障多元文化的精神？(P.178-179)
(A)禁止在公共場合使用非主流語言
(B)規定全國人民只能學習單一語言以利溝通
(C)將各族群語言列為國家語言，保障其延續
(D)強制所有外籍移工必須放棄母語，入境隨俗
- 桃園國際機場在興建第三航廈時規畫了不同宗教的祈禱室，提供伊斯蘭教、佛教、基督教等信徒使用。這種做法展現了營造多元文化社會的哪一種態度？
(A)秉持尊重與理解，讓每種文化保有其特質
(B)透過法律強制所有公共空間都必須去宗教化
(C)以自身文化作為判斷他人的基準
(D)強迫不同信仰者接受主流宗教觀點(P.175-179)
- 清明節掃墓、端午節吃粽子、中秋節吃月餅。上述行為皆屬於社會規範中的哪一類？
(A)法律
(B)風俗習慣
(C)倫理道德
(D)宗教信仰(P.185-186)

- 每逢農曆三月，台灣各地宮廟盛大舉辦「媽祖遶境」活動，成千上萬的信眾隨香參與，這已成為台灣漢民族社會中多數人認同並遵循的「主流文化」。而在遶境隊伍中，有些由青少年組成的「電音三太子」、「鋼管舞藝陣」等團體，將傳統宗教儀式結合現代流行電音與舞步，發展出該群體專屬的表演藝術風格。關於文化的敘述，下列何者正確？(P.175-179)
(A)「次文化」是指內容較為次等、低階的文化，因此參與者多為青少年
(B)媽祖遶境屬於「主流文化」，是因為其在新聞媒體有報導
(C)為了維護傳統宮廟活動的純潔性，政府應立法禁止低級的次文化加入
(D)社會由不同的文化組成，透過相互支持與存續，形成豐富的多元文化
- 某個國際組織公布了「最不文明城市排行榜」，其評分標準如右列圖(1)所示。然而，一些國家不太認同，覺得這樣的標準只是用少部分國家的觀點來看全世界，忽略了其他文化的生活方式，可能產生以下何種問題？(習作P.13)
(A)許多族群的母語受到限制
(B)發展出未受認同的次文化
(C)同一文化的人們受到制約
(D)導致文化有高低優劣之分
- 在法國，貼面禮通常代表親密與問候；但在許多國家這容易被視為騷擾。這告訴我們在多元社會中應具備什麼態度？(P.175-178、P.184-186)
(A)法律應強制規定在各國遵守的禮儀標準
(B)全球應統一社會規範，避免發生誤會
(C)應堅守自身文化規範，同化他人看法
(D)了解文化差異，尊重他人的社會規範
- 在歐洲，大多數民眾使用刀叉用餐，因此這被視為是主流文化。然而，華裔社群仍習慣使用筷子用餐，這在歐洲社會中可被歸類為一種「次文化」。關於這兩種文化的敘述，下列何者最正確？(P.175)
(A)「主流文化」是因為比「次文化」更進步且高級，才被大眾認同
(B)「次文化」通常是因為社會中的部分成員的種族、職業、宗教或年齡等差異而形成
(C)兩者用餐習慣的差異，體現了文化的「普遍性」
(D)國家應透過法律強制規定，要求「次文化」群體必須融入「主流文化」以維持秩序



圖(1)

11. 庫洛米前往杜拜旅遊，她在當地公共海灘穿著比基尼戲水，引發周遭民眾的側目與不滿；隨後警察到場告知，依據該國法律及維護善良風俗之相關規定，公共場合服儀不整者將處以罰鍰。關於此情境中的社會規範，下列敘述何者**最正確**？(P.187)
- (A)當地民眾對庫洛米感到不滿，主要是因為其行為違反了當地的「非正式規範」
- (B)警察依據法律規定開立罰鍰的做法，涉及了「非正式規範」具有強制力的特性
- (C)維護「善良風俗」屬於倫理道德的範疇，在世界各國對於服儀的標準皆完全相同
- (D)庫洛米因穿著比基尼而被開罰，顯示「正式規範」可以用來強制約束人民的內在思想
12. 艋舺青山宮在遶境夜巡時被警方要求限制燃放炮竹，否則將依法舉發，這顯示國家透過何種方式來維持社會秩序？(P.188-189)
- (A)透過宗教教義來安定人心
- (B)限制傳統文化發展以維持國家權威
- (C)制定規範來改變或約束不合時宜的非正式規範
- (D)藉由風俗習慣來加強警察與民眾間的互動機會
13. 阿兩為了避免被所長發現他翹班，因此他無視排隊的人潮逕自插隊跑到機器前購買車票，請問關於下列敘述，何者**正確**？(P.185-187)
- (A)排隊屬於正式規範的一種，若違反將受到公權力的強制制裁
- (B)此行為體現了現代社會強調的「第六倫」，著重個人與大眾的關係
- (C)這種規範主要透過社會輿論壓力約束民眾，因此要把他拍照上網並公布個資
- (D)若有人在捷運站插隊，國家會立即以一定程序制定法律對其進行懲處
14. 為了保障婦幼的基本權益，政府制定《兒童及少年福利與權益保障法》，明確規定停車場須設置婦幼停車格。這項法律的實施，將原本基於善心助人的道德觀念，轉化為具有法律強制力的正式規範。請問：這項立法行動主要反映了下列何種意義？(P.187-189)
- (A)非正式規範取代了正式規範
- (B)正式規範隨文化差異而消失
- (C)以正式規範提升保障的成效
- (D)改變不合時宜的非正式規範

15. 大明嚮往環遊世界，他翻閱一位旅人的雜記時，覺得書中的圖(2)內容讓他感到熟悉，若他將公民課的知識運用到本書中，他最可能聯想到文化的哪兩個特性？



(P.174) 圖(2)

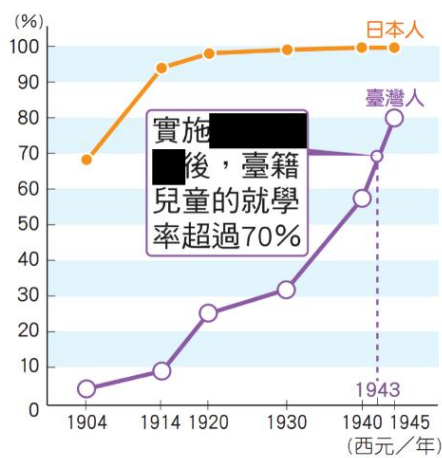
- (A)普遍性、累積性
- (B)累積性、制約性
- (C)普遍性、差異性
- (D)差異性、制約性
16. 小丸子因為搬家的關係，必須搭捷運上學，他注意到有優先席的設置，請問下列關於優先席的敘述何者**正確**？(P.184-187)
- (A)法律強制規定年輕人必須讓位，否則會被警察罰款
- (B)只有經常搭乘捷運並訂閱高級會員資格者才能乘坐
- (C)優先席是特殊座位，未具有資格隨意乘坐會被要求離開
- (D)法律僅規範須設置一定比例的優先席，是否讓座則沒有規定

背面尚有試題，請繼續作答

新北市立中正國民中學114學年度第二學期七年級社會科第二次段考段考試題

範圍：公民 B2L3~4、歷史 B2L3~4、地理 B2L3~4 班級：_____ 座號：____ 姓名：_____

17. 蔡培火創作的〈臺灣自治歌〉歌詞提到：「臺灣全島快自治，公事既掌是應該... 百般義務咱著盡，自治權力應當享。」這是西元 1930 年成立的某一個政治團體，在每一次召開會議時，團體成員都會合唱這首歌。請問上述的政治團體應為下列何者？【習作題】
- (A) 臺灣民主國 (B) 臺灣民眾黨
(C) 臺灣文化協會 (D) 臺灣地方自治聯盟
18. 「自『收復』以來，臺灣物資漲了將近一百倍！每十斤的米，在日本投降時只需臺幣 1 元就可買到，現在卻漲到 120 元！而工資只比日本投降時增加 3 倍，目前全臺失業人數達八十萬。」上述內容最有可能出現在哪一年的文章？【習作題】
- (A) 西元 1890 年 (B) 西元 1920 年
(C) 西元 1934 年 (D) 西元 1946 年
19. 附圖為日治時期臺灣學齡兒童就學率變化，下列敘述何者正確？(P.104)
- (A) 1904 年日本人就學率 70%，台灣人的就學率約有 10%，反映台人對殖民教育的排斥
(B) 1945 年日本人就學率 100%，台灣人就學率 80%，反映總督府已落實平等教育
(C) 日本人就讀公學校，台灣人就讀小學校，圖表可以推測出台灣的小學校興建數量比較多
(D) 表格內的污損處，應為 1943 年推動的六年義務教育



20. 1942 年，住在台東卑南部落的原住民張小妹，準備要進入初等教育唸書，請問他會去哪一間學校就讀？(P.104-105)
- (A) 公學校 (B) 小學校 (C) 蕃童教育所 (D) 國民學校
21. 下表為我國行憲後的歷任總統，由此可見蔣中正一共做了 5 任的總統 (1948~1975 年)，民間對此嘲諷以「于右任」(余又任)、「趙麗蓮」(照例連)、「吳三連」(吾三連)。請問：蔣中正可以連選連任這麼多次，與哪一條法律有關？

總統	任期
蔣中正	1~5
蔣經國	6、7
李登輝	8、9
陳水扁	10、11
馬英九	12、13
蔡英文	14、15
賴清德	16

- (P.118-119)
- (A) 六三法
(B) 中華民國憲法
(C) 動員戡亂臨時條款
(D) 戒嚴令

22. 阿聞跟朋友正在討論某學校的展覽內容：「公立台中中學校」的設立，是日本殖民時代，台灣首次以請願的方式，挑戰官方體制，把日本統治者的教育權力，拿回台人自己手中。這樣的歷史壯舉，實踐了梁啟超非暴力抗爭的理論，也將 OOO 推上了民意的高峰。」請問誰說錯了？(P.105)

(A) 阿聞：某學校為台中中學校，是第一所專為台灣人設立的中學 (B) 小利：OOO 是林獻堂，他與士紳台灣爭取到受教育的機會 (C) 阿敬：1919 年創此校，是內地延長主義時期下，臺人爭取權利的活動之一 (D) 倫倫：當時日本對臺人中等教育偏重職業教育，例如教師、醫師

23. 日治時期總督府廣設「報時鐘」，要求民眾同步進行晨間體操或聆聽廣播。這種推動全島「同步作息」的基礎，與下列何者最相關？(P.108-109)
- (A) 放足斷髮 (B) 現代衛生觀念
(C) 標準時間制 (D) 星期制

24. 民國 79 年 3 月，學生們於中正紀念堂發起「解散國民大會、總統民選」的靜坐抗爭，正式掀起 OOO 學運的序幕。請問以下敘述何者正確？(P.121)

(A) 這場學運是野百合學運
(B) 學生們當時的集會活動是非法的
(C) 學運的訴求是終止戒嚴令
(D) 當時學運發生時的總統是蔣經國

25. 樂信瓦旦改漢名為林瑞昌，曾擔任第一屆省參議員及第一屆臨時省議員。曾經勸族人不要加入反抗政府的行列、盡力調解不同族群間的紛爭，卻在西元 1952 年無預期的被政府逮捕。原來是因為他主張政府應該歸還原住民被占領的土地，讓族人能夠回到故鄉居住，但這樣的主張被政府認定是宣揚共產主義，樂信瓦旦因此被誣賴是共匪，最終遭到槍決。樂信瓦旦死後，家人的生活陷入困境，許多親友甚至擔心被牽連而遠離他們，直到多年之後，他們才逐漸走出這場 OOO 的陰影。

請問下列敘述何者正確？(P.118-119)

(A) 樂信·瓦旦因主張土地權利被處決，顯示當時正處於二二八事件後的「清鄉」整肅時期
(B) 樂信·瓦旦的受難，反映當時政府常以「為匪宣傳」等理由，逮捕不分族群的異議分子
(C) 此案發生於 1950 年代，當時政府因實施「內地延長主義」，嚴厲打壓原住民的自治訴求
(D) 這種「誣指為共匪」並處以極刑的做法，在《動員戡亂時期臨時條款》廢除後才停止

26. 昭和 10 年 (1935 年) 11 月 22 日上午，臺灣街頭氣氛不尋常。這是全臺第一場破天荒的選舉。許多本島人穿上正裝，慎重地走入投票所，選的是各市議會及各街庄的協議會員……，最終全臺投票率更高達九成以上。關於這場「破天荒選戰」的背景與論述，下列何者最符合史實？(A) 為「臺灣議會設置請願運動」成功爭取後的結果 (B) 總督府為落實內地延長主義，採取全面普選 (C) 標誌法律平等，由臺灣民眾黨決定全臺政治事務 (D) 主因是「臺灣地方自治聯盟」長期請願鼓吹而促成 (P.106-107)

新北市立中正國民中學114學年度第二學期七年級社會科第二次段考段考試題

範圍：公民 B2L3~4、歷史 B2L3~4、地理 B2L3~4 班級：_____ 座號：____ 姓名：_____


題組題：請回答第27-30題

(甲)雜誌曾在社論中提到：「本報乃是臺灣人唯一之言論機關，……自創刊以來，即以此為天職。蓋我島同胞受治於特殊政治之下，呻吟於無聲之境。……我們願做民眾的喉舌，普及大眾文化，要求撤廢不平等的法規，以達成我島人之使命。」最後該雜誌因戰爭爆發，言論空間遭全面封鎖。

(乙)本刊批評時政的文字，比以前批評得更直率、更嚴厲。1957年起發表一系列『今日的問題』社論以後，我們被戴上『反共無望論』的帽子，接著又有所謂『賣國主義者』、『亡國主義者』等罪名。除了公開的謾罵、構陷以外，還有或明或暗的恫嚇與利誘。」最後該雜誌在1960被停辦。

(丙)雜誌在創刊號中宣告：「美麗之島，是我們生長的家鄉。我們相信，決定我們未來道路和命運，不再是任何政權和這政權所奉養之文人的權利，而是我們所有人民大眾的權利。」之後該雜誌在創辦的同年帶領群眾在12/10國際人權日走上街頭抗議，卻因發生警民衝突而多人被捕入獄。

請問(乙)所指的雜誌為何者？(P.106-107、118-121)



27. 關於(甲)雜誌及其背景的敘述，何者正確？(P.106-107、118-121)

- (A)創刊於「內地延長主義」時期，旨在喚起民族意識
- (B)由「臺灣民眾黨」發起，呼籲政府重視民權與勞工議題
- (C)所抗議的「不平等法規」是指戰後的《戒嚴令》
- (D)當時政府為臺灣行政長官公署

28. 關於(丙)雜誌所引發的爭議，下列敘述何者最符合史實？(P.106-107、118-121)

- (A)創辦人雷震因籌組新政黨遭逮捕
- (B)1979年引發美麗島事件，為臺灣民主轉型轉捩點
- (C)是「臺灣地方自治聯盟」機關報，旨在爭取參政權
- (D)因查緝私菸引發民怨，演變為全臺大規模衝突

29. 將上述資料依發生時間先後排序，何者正確？(P.106-107、118-121)

- (A)甲乙丙(B)乙丙甲(C)丙乙甲(D)甲丙乙

足纏	吸阿食片	族種	足纏	吸阿食片	族種	足纏	吸阿食片	族種				
解		廣	纏		福			福				
痘種	具不	別種	痘種	具不	別種	痘種	具不	別種				
一		二	天		二	天		二				
柄續			柄續			柄續						
仔婦媳			妻			主戶						
生年月日	民名	續柄	母	父	生年月日	民名	續柄	母	父			
X X X	林芳	長男康阿力之妻	王 O O	林 O O	X X X	陳琬	劉 O O	陳 O O	X X X	康阿軒	楊雯	康阿昌

30. 小誠正在和朋友討論日治時期的戶口名簿，根據上圖，請問誰說錯了？(P.108、110)

- (A)小誠：戶長與妻子為福建籍，媳婦仔為廣東籍
- (B)小雷：陳琬記載為「纏」，代表已響應放足運動
- (C)小艾：林芳是戶長的媳婦仔，為長子康阿力的妻子
- (D)乙乙：鴉片調查皆為空白，代表不在漸禁政策名單中

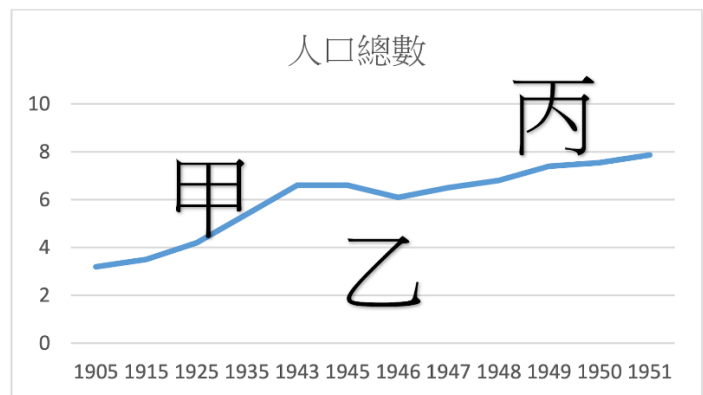
31. 臺灣的民主並非歷史的必然，而是來自人的辛勤。是一場跨越百年的追求：民主、平等、自主、和尊嚴。請將下列事件依「發生時間」先後排序，下列何者正確？

- (甲)實行地方自治
- (乙)廢除動員戡亂時期臨時條款
- (丙)美麗島事件
- (丁)解除戒嚴
- (戊)民主進步黨成立。(P.106-107、116-121)

- (A)甲丙戊丁乙 (B)甲丙丁戊乙
- (C)甲戊丙乙丁 (D)丙戊甲丁乙

32. 小芳正在做一份台灣史報告，下圖是20世紀上半葉台灣人口數量統計圖，從此統計圖中可看出，台灣人口在(甲)(乙)(丙)三階段，人口數有明顯變化。以下是小方對這三階段的分析，請問以下敘述何者正確？

- (A)甲階段人口增加是因為醫療衛生的改善
- (B)乙階段人口減少是因為戰後大量移民來台發展
- (C)丙階段人口減少與政治環境因素有關
- (D)甲乙丙三階段都發生在日本殖民統治時期



背面尚有試題，請繼續作答

新北市立中正國民中學114學年度第二學期七年級社會科第二次段考段考試題

範圍：公民 B2L3~4、歷史 B2L3~4、地理 B2L3~4 班級：_____ 座號：____ 姓名：_____

34. 產業類型主要可分為三大類，請問以下選項中的組合，哪一組的產業類型完全一致？(P.30)
 (A)觀光業、牧業、林業
 (B)宗教業、教育業、成衣業
 (C)營造業、高科技產業、農產加工業
 (D)酪農業、紡織業、出版業。
35. 台灣市售鮮奶每公升零售價為80~125元，紐西蘭則為39.4~88.7元，2025年元旦起，紐西蘭液態乳進口至台灣正式取消關稅，請問在進口乳品競爭與市場價格壓力下，台灣的酪農業者該如何因應？(P.38)
 (A)技術升級與品質管理提高優勢
 (B)壓低生乳收購價，以降低售價
 (C)加入國際性組織以利大量外銷
 (D)加強行銷宣傳，提高品牌知名度。
36. 洋香瓜別名哈密瓜，露天種植果實通常較小、肉質粗糙、不甜，而溫室種植，嚴格控水、施藥和給肥，單株只留一顆果實，所有精華都濃縮於此，自然單價也高，依上文敘述較符合何種農業？(P.34)
 (A)精緻農業 (B)集約農業
 (C)有機農業 (D)休閒農業。
37. 前幾年房市火熱時，營造業承接大量預售案與建案工程，鋼筋、水泥與砂石價格過去幾年大幅波動，利潤被大幅侵蝕。若僅依上文判斷造成營造業利潤縮減的因素，同樣促成哪樣產業的轉型？(P.41)
 (A)科技業 (B)製糖業
 (C)台灣的重工業 (D)輕工業。
38. 烏魚的棲息地以中國沿海海域為主，其特性為「隨著季節迴游，成熟的烏魚會固定成群結隊從沿中國南下，跨過臺灣海峽，至臺灣西南沿海產卵。」根據上文，烏魚最有可能跟隨哪股洋流產卵？(P.36)
 (A)親潮 (B)中國沿岸流
 (C)黑潮支流 (D)黑潮。
39. 台灣加入世界貿易組織(WTO)後，第一級產業面臨轉型的挑戰，否則難以與外國農產品競爭，主要原因為何？(P.34)
 (A)單位面積產量低 (B)產品價格競爭力低
 (C)農村人口老化 (D)耕地過於狹小。
40. 「這裡是臺灣重要的養蚵產地之一，潮間帶豎立著一支支蚵架，並擁有獨特的『牛車採蚵文化』。此文化源自日治時期，在陸地耕田的黃牛進入潮間帶協助漁民採蚵，全盛時期數量曾高達300多隻。近年來，當地養蚵業結合觀光，推行全球獨有的『海牛採蚵』生態旅遊。」上述活動最可能舉辦於下列哪一個地區？(P.37)
 (A)花蓮縣壽豐鄉 (B)宜蘭縣羅東鎮
 (C)彰化縣芳苑鄉 (D)臺東縣成功鎮。
41. 永在林業是傳統林業經營者，近年來尋求轉型，於2016年通過FSC森林管理驗證，FSC強調友善環境的經營方式，因此永在林地不使用除草劑，與社區居民保持友好關係，聘請在地居民人工除草、植苗，提供工作機會。

由上文可知FSC驗證的主要目的為何？(P.32)

- (A)維持森林生態一致性 (B)鼓勵合法砍伐天然林
 (C)促使林業能永續發展 (D)推廣林業結合觀光業。

42. 下表為AI台灣相關供應鏈，有關以下供應鏈中的廠商具有的特性**不包括**下列何者？(P.41)

供應鏈	廠商
品牌廠	宏碁、華碩、聯想
代工廠	鴻海、廣達、仁寶、緯創
中央處理器	聯發科
晶圓代工	台積電、聯電
矽智財	世芯
主機板	華碩、技嘉

- (A)原料密集度高 (B)技術密集度高
 (C)資本密集度高 (D)附加價值性高。

43. 2022年台灣出口值4,794億美元、居全球第17名；進口值4,280億美元、同列全球第17；貿易總額則是首度跨越9,000億美元大關，創下歷史新高，臺灣對於國際貿易依賴度極高，此種現象與臺灣何種特徵最為相關？(P.46)
 (A)人口密度高 (B)國內市場狹小
 (C)自然資源豐富 (D)本地勞力不足。

44. 下表為臺灣某兩種作物在某一年的前三大產區，根據這兩種作物適合栽種的環境判斷，下列敘述何者**正確**？(P.32)

甲		乙	
行政區	產量(公噸)	行政區	產量(公噸)
南投縣	9,568	雲林縣	214,629
嘉義縣	2,079	嘉義縣	175,419
桃園市	434	台南市	145,539

- (A)甲作物種植於丘陵 (B)乙作物種植於高山
 (C)甲作物為甘蔗 (D)乙作物為茶葉。

45. 臺灣的地形限制了農林漁牧業的發展，請問下列敘述何者與「土地狹小」關係最密切？(P.32)
 (A)漁業資源豐富 (B)機械化程度高
 (C)作物種類繁多 (D)畜牧多採欄牧。
46. 下列為各時期臺灣工業發展的特色，請依照時間先後順序排列：(甲)發展輕工業和農產加工業 (乙)發展高科技產業 (丙)成立加工出口區，發展勞力密集產業 (丁)發展重化工業為主，如臺灣國際造船股份有限公司。(P.43)
 (A)甲乙丙丁 (B)甲丙丁乙
 (C)乙甲丙丁 (D)乙丙甲丁。
47. 「位於北歐的冰島擁有充沛的水力及地熱資源，電力充沛而電價低廉，因此適合發展耗電量高的產業，該類產業在冰島一年的耗電量占全國總耗電量70%以上。」上文中提及的產業應為下列何者？(P.42)
 (A)紡織業 (B)製糖業 (C)煉鋁業 (D)鋼鐵業。

背面尚有試題，請繼續作答

試題結束

48. 「魚電共生」就是在魚塭上架設太陽能板，在不影響原本漁業產量的前提下，發展綠能發電設施，若符合規定台電公司也會收購所發的電，根據資料，何者可能是政府欲達成的正面效益？(P.36)

- (A)減緩地層下陷的速度
- (B)增加魚獲的外銷產量
- (C)提高單位面積的產值
- (D)增加捕撈漁業的收益。

49. 「台灣推動離岸風電將近十年，但因風場與漁民作業區重疊，從施工至風場完工，出現漁場干擾、航行安全、海域環境劇變等議題，導致風電開發商與漁民衝突不斷」，有關上述新聞報導，何種漁業的影響會最小？

(P.37)

	漁業種類	作業範圍
天然	甲	12浬內
	乙	12-200浬
	丙	200浬以外
人工	丁	

- (A)甲 (B)乙 (C)丙 (D)丁。

50.

	出口總值(億美元)	進口總值(億美元)
亞洲	3219	2630
歐洲	389	473
非洲	22	40
北美洲	515	332
中南美洲	77	89
大洋洲	58	167

上表為2022年臺灣與各洲貿易的進出口總值，由表中內容判斷，下列敘述何者**正確**？(P.45)

- (A)臺灣與中南美洲貿易呈現出超
- (B)臺灣與北美洲貿易呈現入超
- (C)大洋洲為臺灣最主要的貿易伙伴
- (D)臺灣可從亞洲獲得最多貿易收入。